




# Comparer deux figures

Fiche 1



*Apprenti Géomètre mobile - Grandeurs*

Ouvre le fichier *Comparer1*.

Sur le serveur du CREM :

- ▶ Réactivation
- ▶ Comparer deux figures

Y a-t-il une figure plus grande que l'autre ?  
Explique comment tu as procédé pour le vérifier.



.....

.....

.....


.....

.....



# Comparer deux figures

Fiche 2



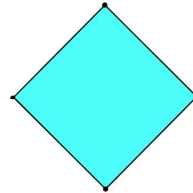

*Apprenti Géomètre mobile - Grandeurs*

Ouvre le fichier *Comparer2*.

Sur le serveur du CREM :

- ▶ Réactivation
- ▶ Comparer deux figures

Y a-t-il un carré plus grand que l'autre ?  
Explique comment tu as procédé.



.....

.....

.....


.....

.....



# Comparer des figures

Fiche 3




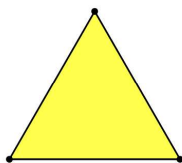
*Apprenti Géomètre mobile - Grandeurs*

Ouvre le fichier *Comparer3*.

Sur le serveur du CREM :

- ▶ Réactivation
- ▶ Comparer deux figures

Y a-t-il un triangle plus grand que l'autre ?  
Explique comment tu as procédé.



.....

.....

.....


.....

.....



# Comparer deux figures

Fiche 4



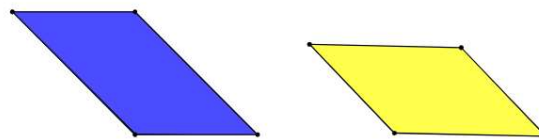
*Apprenti Géomètre mobile - Grandeurs*

Ouvre le fichier *Comparer4*.

Sur le serveur du CREM :

- ▶ Réactivation
- ▶ Comparer deux figures.

Y a-t-il un parallélogramme plus grand que l'autre ?  
Explique comment tu as procédé.



.....

.....

.....


.....

.....



# Comparer deux figures

Fiche 5




*Apprenti Géomètre mobile - Grandeurs*

Ouvre le fichier *Comparer5*.

Sur le serveur du CREM :

- ▶ Réactivation
- ▶ Comparer deux figures.

Y a-t-il un rectangle qui a une aire plus grande que celle de l'autre ?  
Explique comment tu as procédé.



.....

.....

.....


.....

.....



# Comparer deux figures

Fiche 6





*Apprenti Géomètre mobile - Grandeurs*

Ouvre le fichier *Comparer6*.

Sur le serveur du CREM :

- ▶ Réactivation
- ▶ Comparer deux figures.

Y a-t-il une figure qui a une aire plus grande que celle de l'autre?  
Explique comment tu as procédé.




.....

.....

.....

.....

.....



# Comparer deux figures

Fiche 7




*Apprenti Géomètre mobile - Grandeurs*

Ouvre le fichier *Comparer7*.

Sur le serveur du CREM :

- ▶ Réactivation
- ▶ Comparer deux figures.

Y a-t-il un trapèze qui a une aire plus grande que celle de l'autre ?  
Explique comment tu as procédé.



.....

.....

.....

.....

.....